

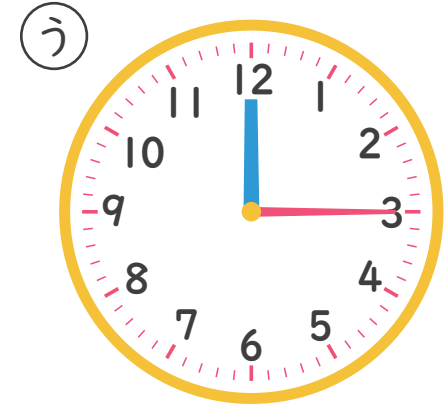
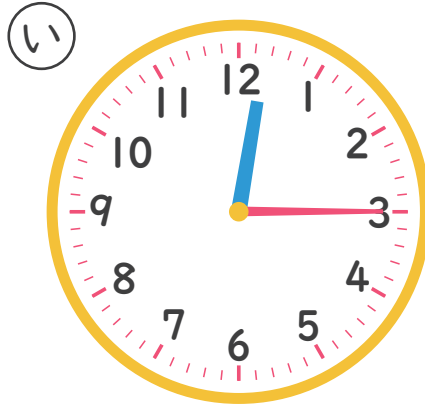



# なんじなんぷん

ただしいとけいを こたえましょう！ (4)

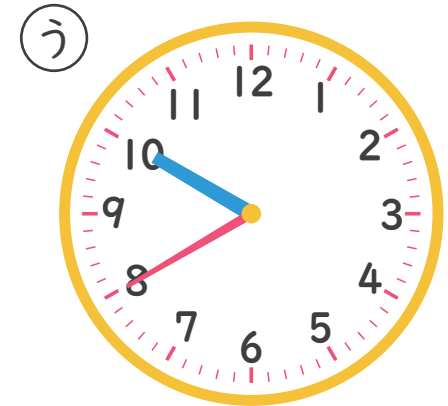
ねん くみ なまえ

1 12じ15ふんの とけいは どれですか。



こたえ \_\_\_\_\_

2 8じ50ふんの とけいは どれですか。



こたえ \_\_\_\_\_